



Tous pour le savoir et la réussite !

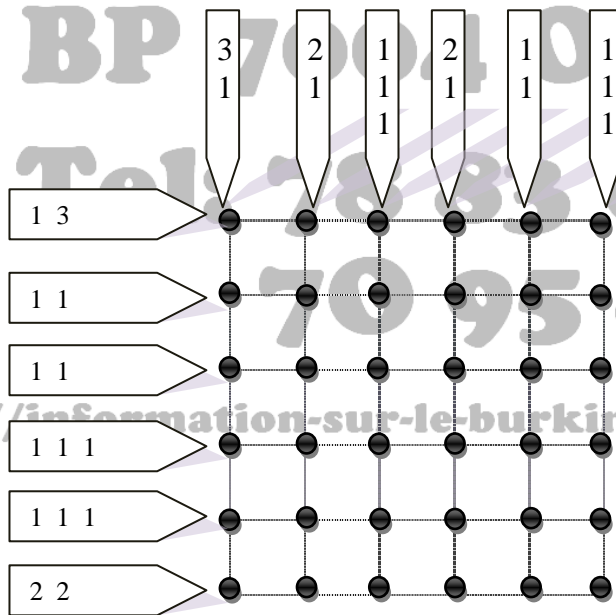
LE PARCOURS EN BOUCLE

Pour ce test psychotechnique, tracez un parcours en boucle en suivant les indications données. Les sections de parcours sont décrites à l'aide des chiffres contenus sur les flèches. Chaque section relie 2 points horizontaux ou verticaux, mais pas obliques. Pour que le parcours soit une boucle, aucune section ne doit croiser une autre (pas de mailles possibles). L'ordre des chiffres au niveau des flèches devra être respecté (de haut en bas et de gauche à droite).

EXERCICE 1

KAMBOU Benjamin

03 BP 7004 Ouaga 03





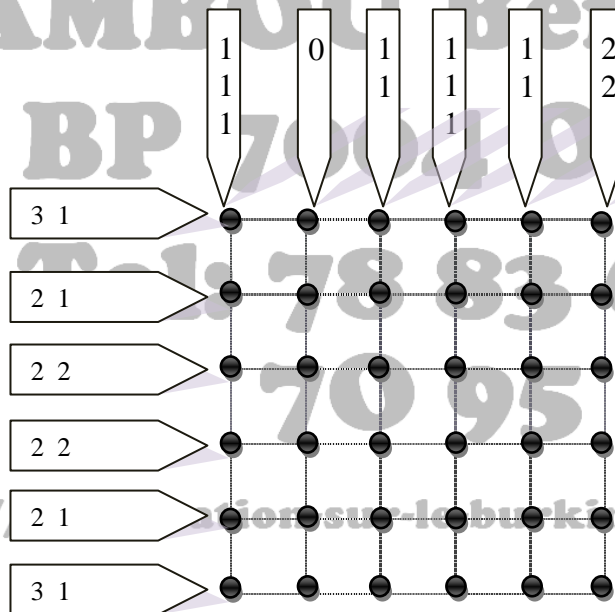
Tous pour le savoir et la réussite !

EXERCICE 2

Pour ce test psychotechnique, tracez un parcours en boucle en suivant les indications données. Les sections de parcours sont décrites à l'aide des chiffres contenus sur les flèches. Chaque section relie 2 points horizontaux ou verticaux, mais pas obliques. Pour que le parcours soit une boucle, aucune section ne doit croiser une autre (pas de mailles possibles). L'ordre des chiffres au niveau des flèches devra être respecté (de haut en bas et de gauche à droite).

site <http://information-sur-le-burkina-faso.e-monsite.com>

KAMBOU Benjamin
03 BP 7004 Ouaga 03



site <http://information-sur-le-burkina-faso.e-monsite.com>

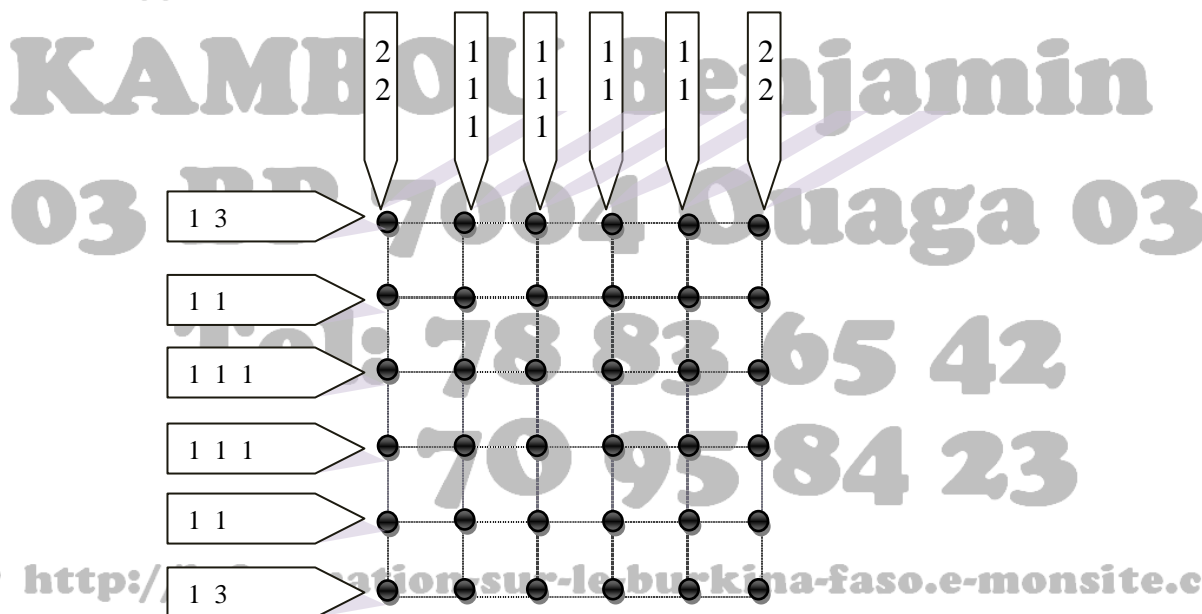


Tous pour le savoir et la réussite !

EXERCICE 3

Pour ce test psychotechnique, tracez un parcours en boucle en suivant les indications données. Les sections de parcours sont décrites à l'aide des chiffres contenus sur les flèches. Chaque section relie 2 points horizontaux ou verticaux, mais pas obliques. Pour que le parcours soit une boucle, aucune section ne doit croiser une autre (pas de mailles possibles). L'ordre des chiffres au niveau des flèches devra être respecté (de haut en bas et de gauche à droite).

site <http://information-sur-le-burkina-faso.e-monsite.com>



site <http://information-sur-le-burkina-faso.e-monsite.com>

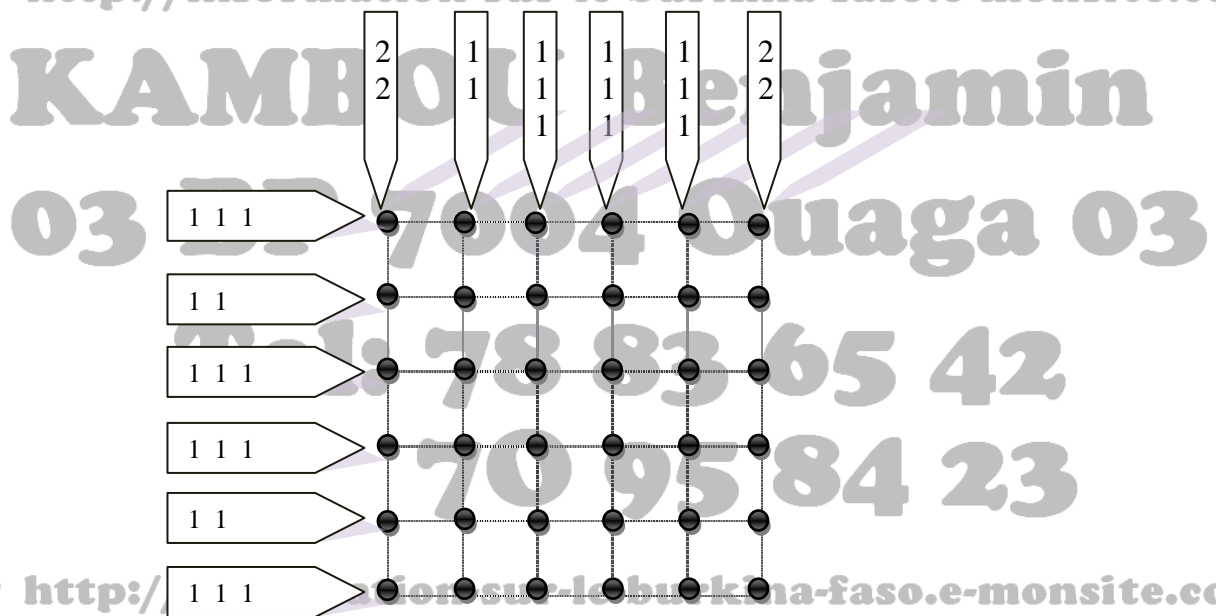


Tous pour le savoir et la réussite !

EXERCICE 4

Pour ce test psychotechnique, tracez un parcours en boucle en suivant les indications données. Les sections de parcours sont décrites à l'aide des chiffres contenus sur les flèches. Chaque section relie 2 points horizontaux ou verticaux, mais pas obliques. Pour que le parcours soit une boucle, aucune section ne doit croiser une autre (pas de mailles possibles). L'ordre des chiffres au niveau des flèches devra être respecté (de haut en bas et de gauche à droite).

site <http://information-sur-le-burkina-faso.e-monsite.com>



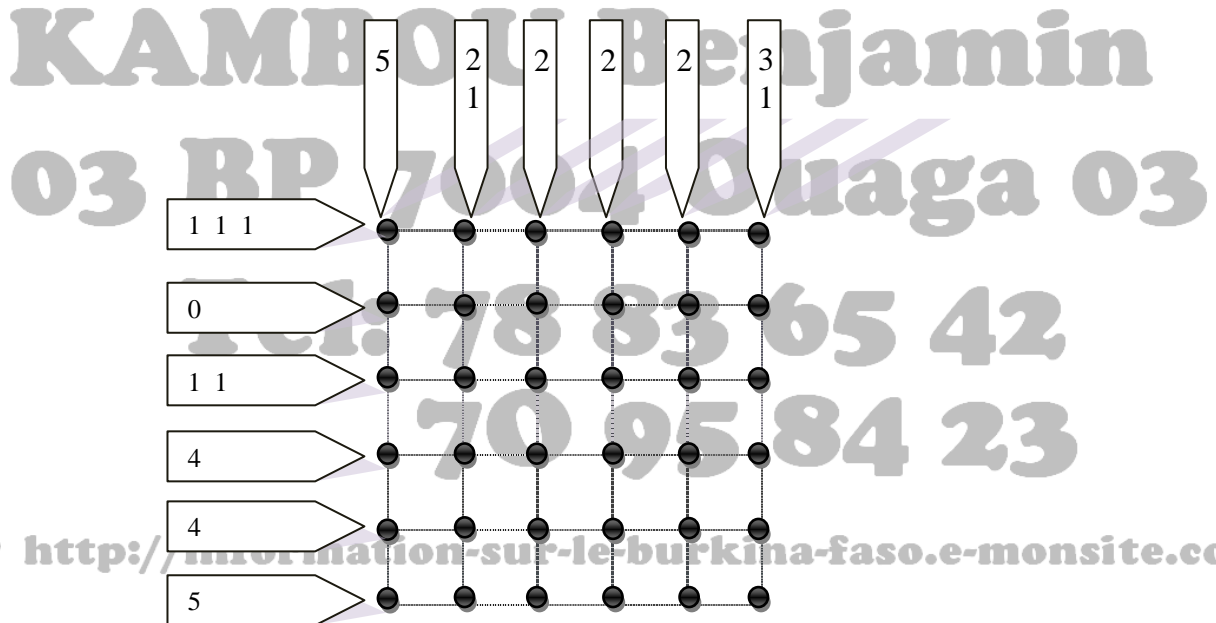


Tous pour le savoir et la réussite !

EXERCICE 5

Pour ce test psychotechnique, tracez un parcours en boucle en suivant les indications données. Les sections de parcours sont décrites à l'aide des chiffres contenus sur les flèches. Chaque section relie 2 points horizontaux ou verticaux, mais pas obliques. Pour que le parcours soit une boucle, aucune section ne doit croiser une autre (pas de mailles possibles). L'ordre des chiffres au niveau des flèches devra être respecté (de haut en bas et de gauche à droite).

site <http://information-sur-le-burkina-faso.e-monsite.com>





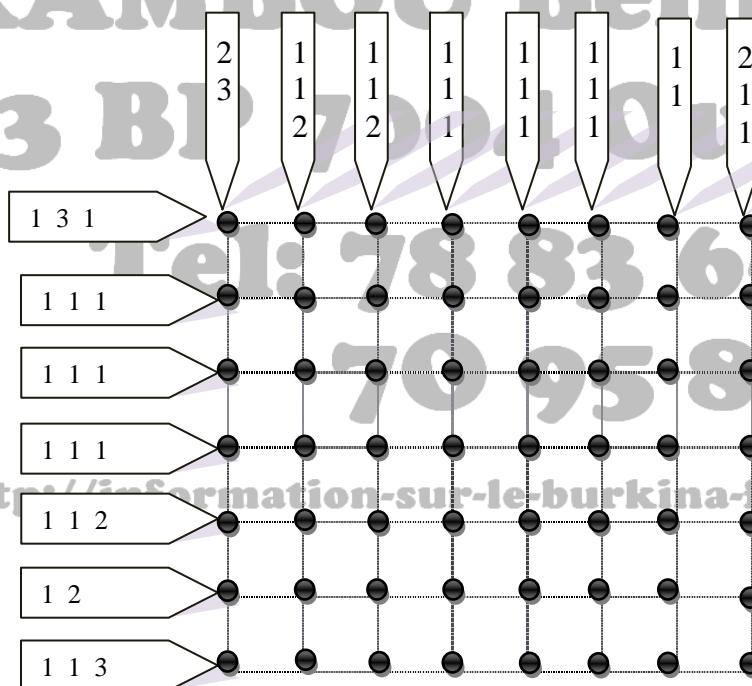
Tous pour le savoir et la réussite !

EXERCICE 6

Pour ce test psychotechnique, tracez un parcours en boucle en suivant les indications données. Les sections de parcours sont décrites à l'aide des chiffres contenus sur les flèches. Chaque section relie 2 points horizontaux ou verticaux, mais pas obliques. Pour que le parcours soit une boucle, aucune section ne doit croiser une autre (pas de mailles possibles). L'ordre des chiffres au niveau des flèches devra être respecté (de haut en bas et de gauche à droite).

site <http://information-sur-le-burkina-faso.e-monsite.com>

KAMBOU Benjamin
03 BP 7001 Ouaga 03



site <http://information-sur-le-burkina-faso.e-monsite.com>

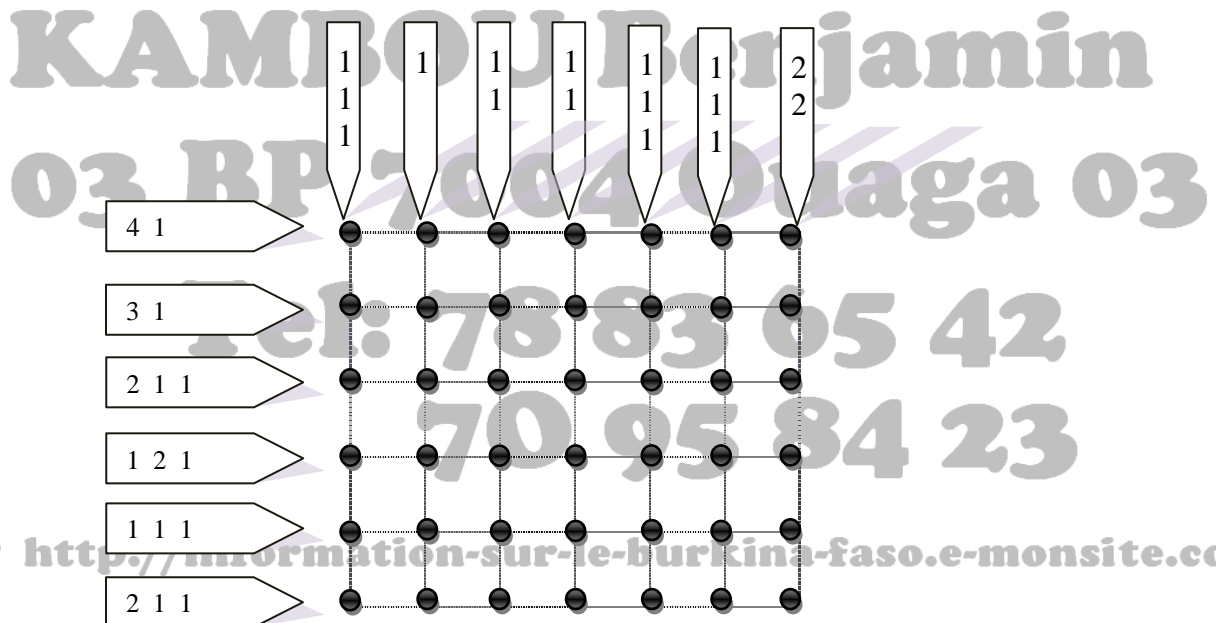


Tous pour le savoir et la réussite !

EXERCICE 7

Pour ce test psychotechnique, tracez un parcours en boucle en suivant les indications données. Les sections de parcours sont décrites à l'aide des chiffres contenus sur les flèches. Chaque section relie 2 points horizontaux ou verticaux, mais pas obliques. Pour que le parcours soit une boucle, aucune section ne doit croiser une autre (pas de mailles possibles). L'ordre des chiffres au niveau des flèches devra être respecté (de haut en bas et de gauche à droite).

site <http://information-sur-le-burkina-faso.e-monsite.com>



site <http://information-sur-le-burkina-faso.e-monsite.com>

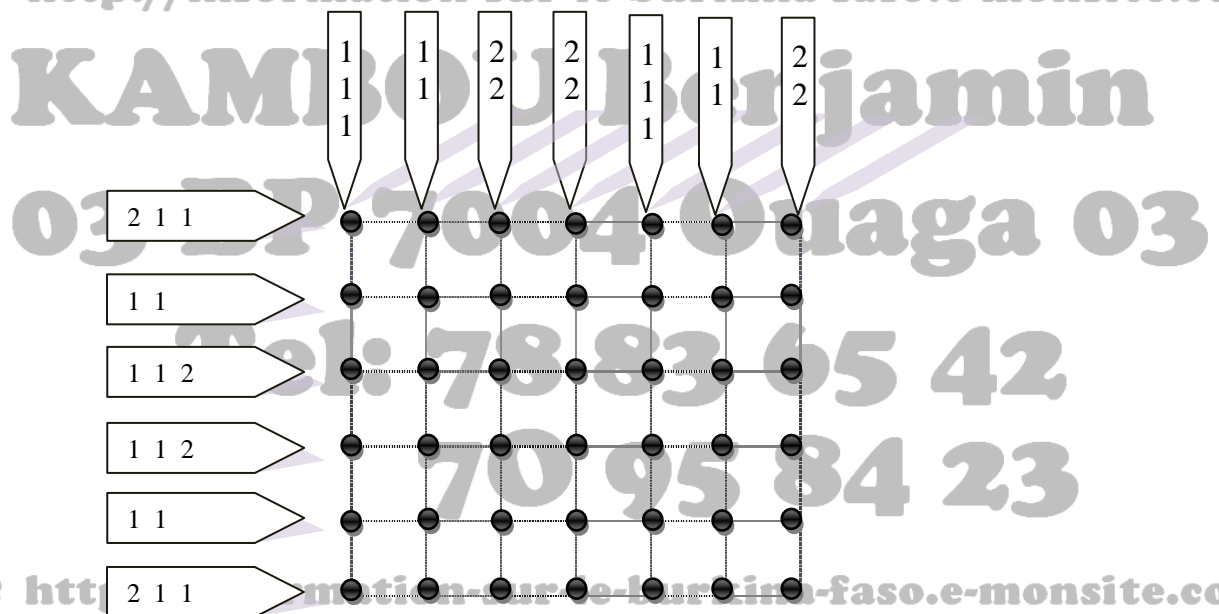


Tous pour le savoir et la réussite !

EXERCICE 8

Pour ce test psychotechnique, tracez un parcours en boucle en suivant les indications données. Les sections de parcours sont décrites à l'aide des chiffres contenus sur les flèches. Chaque section relie 2 points horizontaux ou verticaux, mais pas obliques. Pour que le parcours soit une boucle, aucune section ne doit croiser une autre (pas de mailles possibles). L'ordre des chiffres au niveau des flèches devra être respecté (de haut en bas et de gauche à droite).

site <http://information-sur-le-burkina-faso.e-monsite.com>



site <http://information-sur-le-burkina-faso.e-monsite.com>

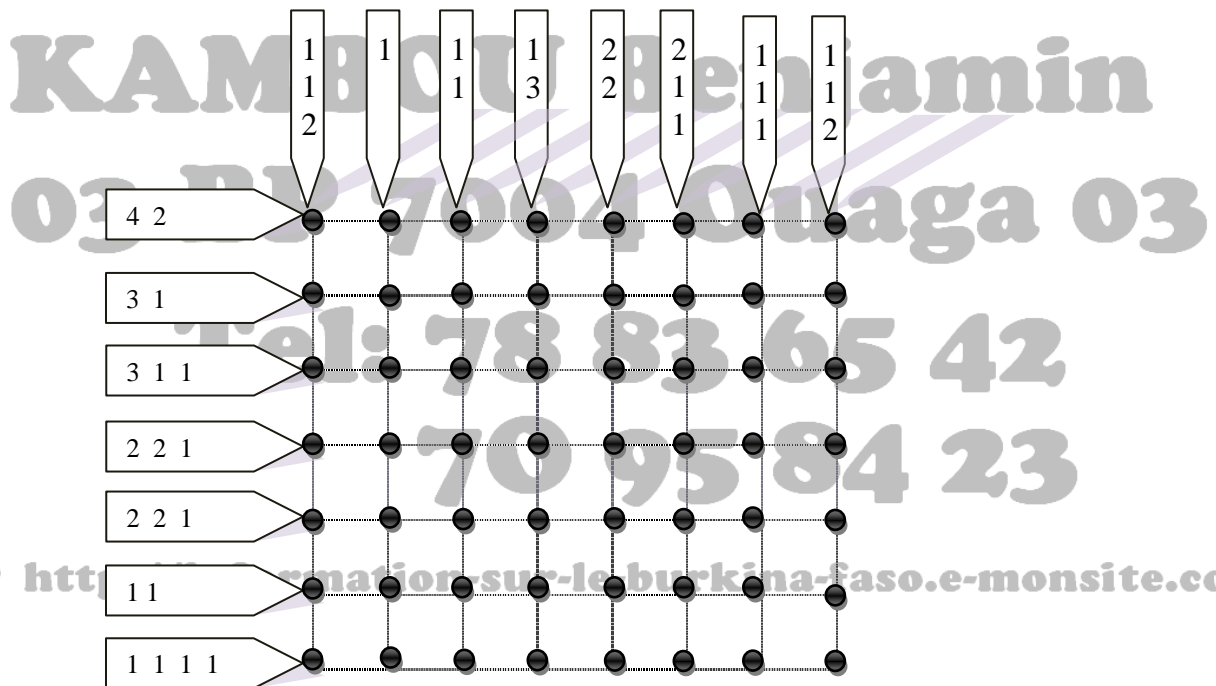


Tous pour le savoir et la réussite !

EXERCICE 9

Pour ce test psychotechnique, tracez un parcours en boucle en suivant les indications données. Les sections de parcours sont décrites à l'aide des chiffres contenus sur les flèches. Chaque section relie 2 points horizontaux ou verticaux, mais pas obliques. Pour que le parcours soit une boucle, aucune section ne doit croiser une autre (pas de mailles possibles). L'ordre des chiffres au niveau des flèches devra être respecté (de haut en bas et de gauche à droite).

site <http://information-sur-le-burkina-faso.e-monsite.com>



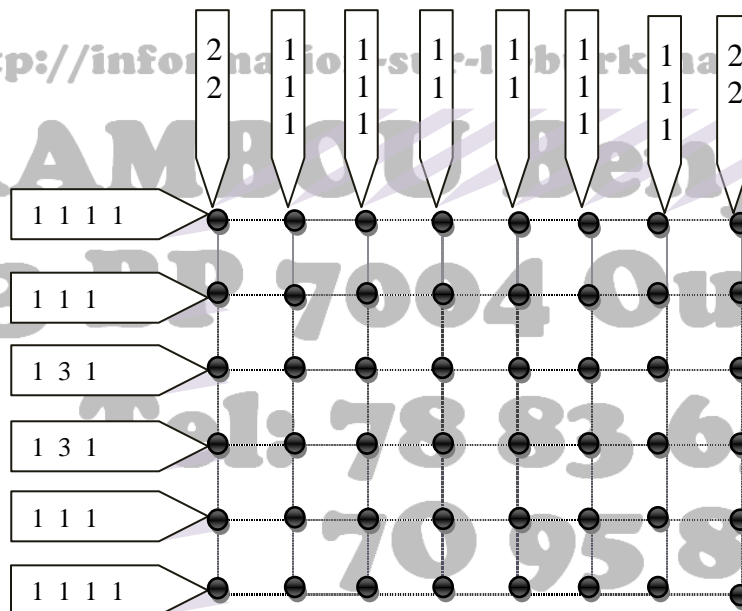
site <http://information-sur-le-burkina-faso.e-monsite.com>



Tous pour le savoir et la réussite !

EXERCICE 10

Pour ce test psychotechnique, tracez un parcours en boucle en suivant les indications données. Les sections de parcours sont décrites à l'aide des chiffres contenus sur les flèches. Chaque section relie 2 points horizontaux ou verticaux, mais pas obliques. Pour que le parcours soit une boucle, aucune section ne doit croiser une autre (pas de mailles possibles). L'ordre des chiffres au niveau des flèches devra être respecté (de haut en bas et de gauche à droite).



site <http://information-sur-le-burkina-faso.e-monsite.com>